



*Ministero dell' Istruzione,
dell' Università e della Ricerca*

*Gruppo di lavoro per la predisposizione degli indirizzi per l'attuazione
delle disposizioni concernenti la valutazione del servizio scolastico*

**Progetto Pilota
Valutazione della scuola italiana**

Anno Scolastico 2003 – 2004

PROVA DI SCIENZE

Scuola Elementare

Classe Seconda

Codici

Scuola:

Classe:

Studente:

Spazio per l'etichetta autoadesiva


A cura dell'INValSI



13016

1301 CODICE PAGINA

1. Osserva con attenzione il disegno.



Quale delle seguenti affermazioni è VERA?

- A. Nel paesaggio non si vedono grossi alberi.
- B. Il ragazzo porta uno zaino sulle spalle.
- C. Lo scoiattolo è nascosto dietro l'albero.



2. Quando l'uva è matura, viene raccolta (vendemmia) per produrre il vino. Le immagini rappresentano quattro momenti del lavoro del contadino.




(1) L'uva viene schiacciata (pigiatura).	(2) L'uva viene raccolta (vendemmia).	(3) Il vino è nella bottiglia che viene tappata ed etichettata.	(4) Il vino viene imbottigliato.
---	--	--	-------------------------------------

In che ordine di tempo si svolgono queste azioni?

- A. 2, 1, 3, 4
- B. 1, 2, 3, 4
- C. 2, 1, 4, 3



3. La lumachina affamata, dopo essere salita su alcuni sassi, ha finalmente raggiunto le gustose foglie di una piantina di insalata.



Quali sono gli esseri viventi presenti in questo breve racconto?

- A. La piantina di insalata, la lumachina e i sassi.
 - B. Solo la piantina di insalata e la lumachina.
 - C. Solo la lumachina.
-

4. Elena sta lavando i vestiti delle sue bambole nel lavandino e lascia scorrere a lungo l'acqua dal rubinetto. La mamma le dice di mettere il tappo al lavandino e di chiudere il rubinetto.

Perché la mamma dice così?

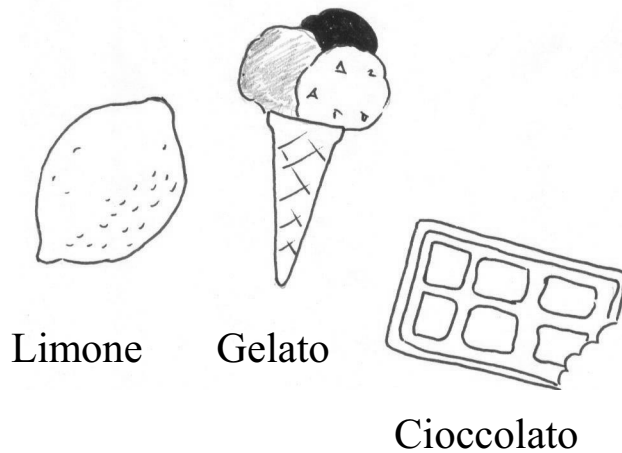
- A. Non vuole che l'acqua bagni il pavimento.
- B. L'acqua fredda può provocare un raffreddore.
- C. L'acqua è importante e non bisogna sprecarla.



5. Durante una passeggiata nel parco Luigi ha visto molti animali e ha osservato che si muovono in modi diversi. Quale movimento NON corrisponde all'animale osservato?

- A. La farfalla vola.
 - B. Il serpente striscia.
 - C. La formica salta.
-

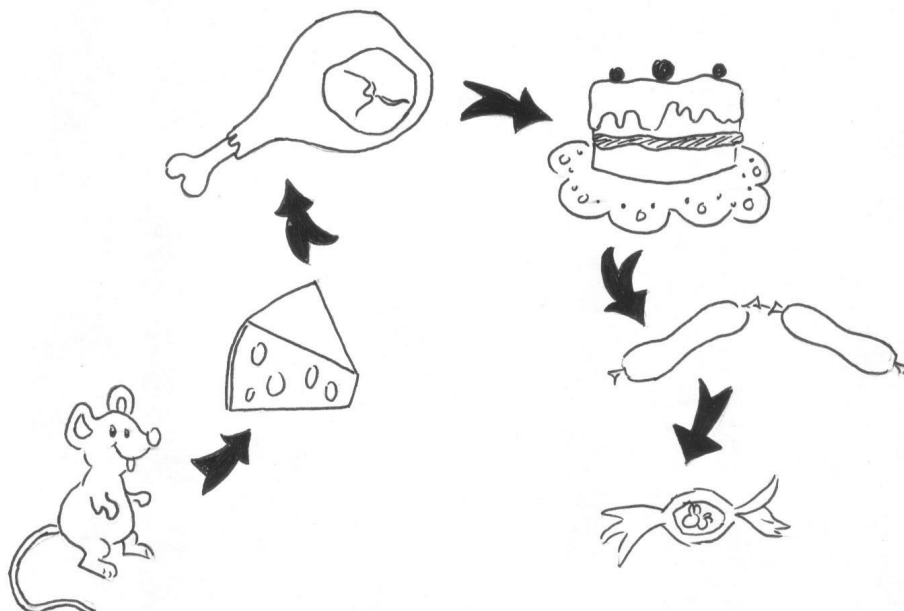
6. Ester assaggia questi alimenti:



Quale di queste affermazioni è VERA?

- A. Il cioccolato è salato.
- B. Il limone è aspro.
- C. Tutti i cibi sono dolci.

7. Le frecce indicano l'ordine che il topo Gnam Gnam ha seguito mentre mangiava i cibi trovati nel magazzino.



Quale delle seguenti affermazioni è VERA?

- A. Per ultimo il topo ha mangiato il prosciutto.
- B. Subito dopo la torta ha mangiato la salsiccia.
- C. Dopo la torta ha mangiato il prosciutto.



II ELEMENTARE SCIENZE

n. item	Tipologia o Tema	Abilità	Risposta corretta
1	elementi di metodo sperimentale	Osservare	B
2	uomo/ambiente	Ordinare	C
3	viventi/non viventi	Discriminare tra vivente e non vivente	B
4	uomo/ambiente	Stabilire relazioni	C
5	viventi/non viventi	Stabilire relazioni	C
6	uomo/ambiente	Esplorare attraverso i sensi	B
7	elementi di metodo sperimentale	Osservare	B